

Измерение площади.

Математика.

Отгадай загадки






$$3+3+1=7$$




$$7 < 8$$




$$4+4=8$$

Игра «Зеркало».





1 CM



Допиши равенства. Что ты замечаешь?

$$\text{3 circles (1 green, 2 red)} + \text{1 square (yellow)} = \text{empty box}$$

$$3 + 1 = \square$$

$$\text{4 items (1 green circle, 2 red circles, 1 square)} - \text{3 circles (1 green, 2 red)} = \text{empty box}$$

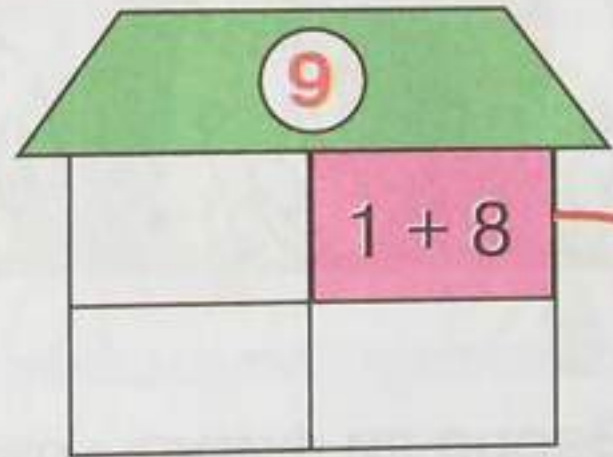
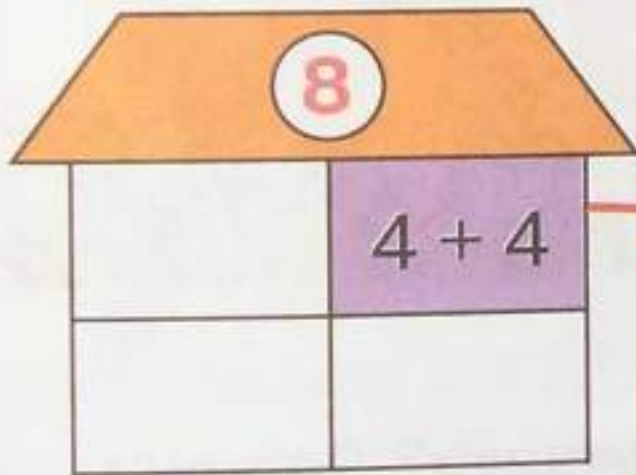
$$4 - 3 = \square$$

$$\text{4 items (1 green circle, 2 red circles, 1 square)} - \text{1 square (yellow)} = \text{empty box}$$

$$4 - 1 = \square$$

★ Игра: “Строим домики”.

Построй домики по образцу.



$2 + 6$

$7 + 2$

$5 + 3$

$4 + 5$

$1 + 7$

$4 + 4$

$6 + 3$

$1 + 8$

Молодцы!